



























Honderdveld



Welke getallen zitten onder de plaatjes verstopt?

1	2		4	5	6	7	8	9	10
11	12	13	14	15	16	17		19	20
21	22		24	25	26	27	28	29	30
31	32	33	34	35		37	38	39	40
41	42	43		45	46	47	48	49	
	52	53	54	55	56	57	58	59	60
61	62	63	64	65		67	68		70
71		73	74	75	76	77	78	79	80
81	82	83	84	85	86	87		89	90
91	92	93		95	96	97	98	99	100

	<input type="text"/>		<input type="text"/>		<input type="text"/>		<input type="text"/>
	<input type="text"/>		<input type="text"/>		<input type="text"/>		<input type="text"/>
	<input type="text"/>		<input type="text"/>		<input type="text"/>		<input type="text"/>