



























# Honderdveld



Welke getallen zitten onder de plaatjes verstopt?

1	2	3	4	5	6	7	8	9	10
11	12	13	14	15		17	18	19	20
21		23	24	25	26	27	28	29	
31	32	33	34	35	36	37		39	40
41	42	43	44		46	47	48	49	50
	52	53	54	55	56	57	58		60
61	62	63		65	66	67	68	69	70
71		73	74	75	76		78	79	80
81	82	83	84	85	86	87	88	89	90
91	92		94	95	96	97	98		100

	<input type="text"/>		<input type="text"/>		<input type="text"/>		<input type="text"/>
	<input type="text"/>		<input type="text"/>		<input type="text"/>		<input type="text"/>
	<input type="text"/>		<input type="text"/>		<input type="text"/>		<input type="text"/>