

Ik heb... Wie heeft?

Breuken

Het materiaal van Inspie Juffie wordt met enthousiasme en plezier gemaakt. In het maken van het materiaal wordt veel tijd gestoken. Hierom is het niet toegestaan om het materiaal onder eigen naam te verspreiden zonder toestemming van Inspie Juffie.

Als je een van onze materialen in de klas hebt gebruikt dan vinden wij het wel erg leuk om de ervaringen en resultaten te zien. Je kunt ons altijd taggen op Instagram.

Wij wensen je veel plezier met deze materialen!



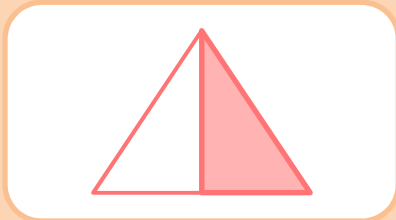
@inspiejuffie

Start

Wie heeft?

$$\frac{1}{2}$$

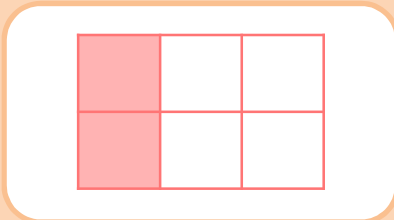
Ik heb



Wie heeft?

$$\frac{2}{6}$$


Ik heb



Wie heeft?

$$\frac{3}{4}$$

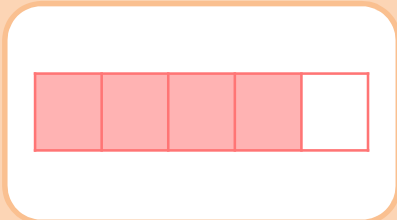
Ik heb



Wie heeft?

$$\frac{4}{5}$$


Ik heb



Wie heeft?

$$\frac{2}{3}$$

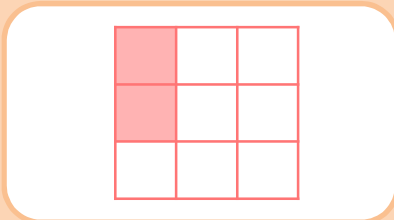
Ik heb



Wie heeft?

$$\frac{2}{9}$$

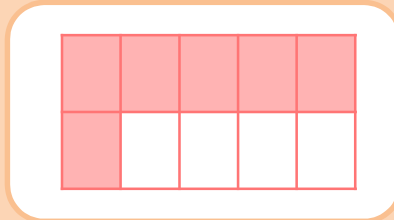
Ik heb



Wie heeft?

$$\frac{6}{10}$$

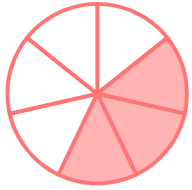
Ik heb



Wie heeft?

$$\frac{3}{7}$$


Ik heb



Wie heeft?

$$\frac{5}{6}$$


Ik heb



Wie heeft?

$$\frac{7}{10}$$


Ik heb



Wie heeft?

$$\frac{1}{4}$$

Ik heb



Wie heeft?

$$\frac{6}{7}$$

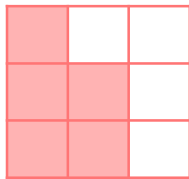
Ik heb



Wie heeft?

$$\frac{5}{9}$$


Ik heb



Wie heeft?

$$\frac{19}{20}$$

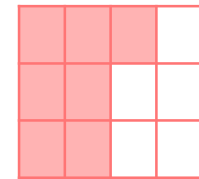
Ik heb



Wie heeft?

$$\frac{7}{12}$$

Ik heb



Wie heeft?

$$\frac{7}{8}$$

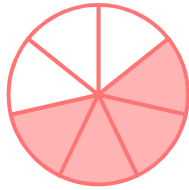
Ik heb



Wie heeft?

$$\frac{4}{7}$$

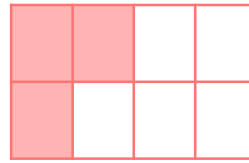
Ik heb



Wie heeft?

$$\frac{3}{8}$$

Ik heb



Wie heeft?

$$\frac{1}{9}$$

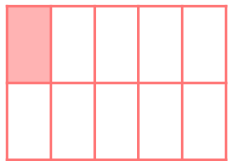
Ik heb



Wie heeft?

$$\frac{1}{10}$$

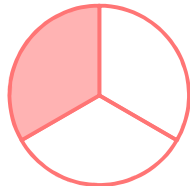
Ik heb



Wie heeft?

$$\frac{1}{3}$$

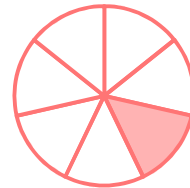
Ik heb



Wie heeft?

$$\frac{1}{7}$$

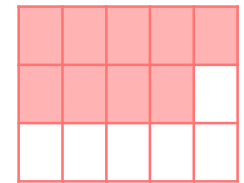
Ik heb



Wie heeft?

$$\frac{9}{15}$$

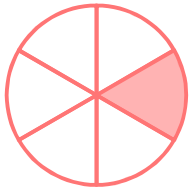
Ik heb



Wie heeft?

$$\frac{1}{6}$$

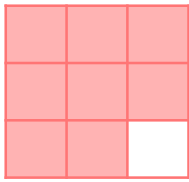
Ik heb



Wie heeft?

$$\frac{8}{9}$$

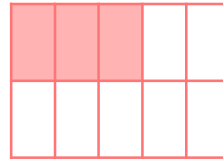
Ik heb



Wie heeft?

$$\frac{3}{10}$$

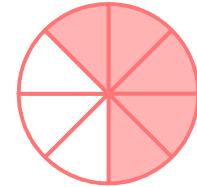
Ik heb



Wie heeft?

$$\frac{5}{8}$$

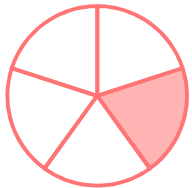
Ik heb



Wie heeft?

$$\frac{1}{5}$$


Ik heb



Wie heeft?

$$\frac{7}{9}$$

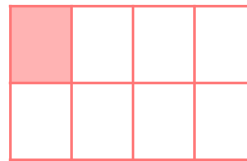
Ik heb



Wie heeft?

$$\frac{1}{8}$$

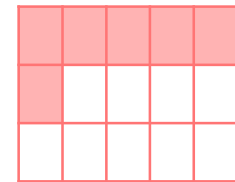
Ik heb



Wie heeft?

$$\frac{6}{15}$$

Ik heb



Einde